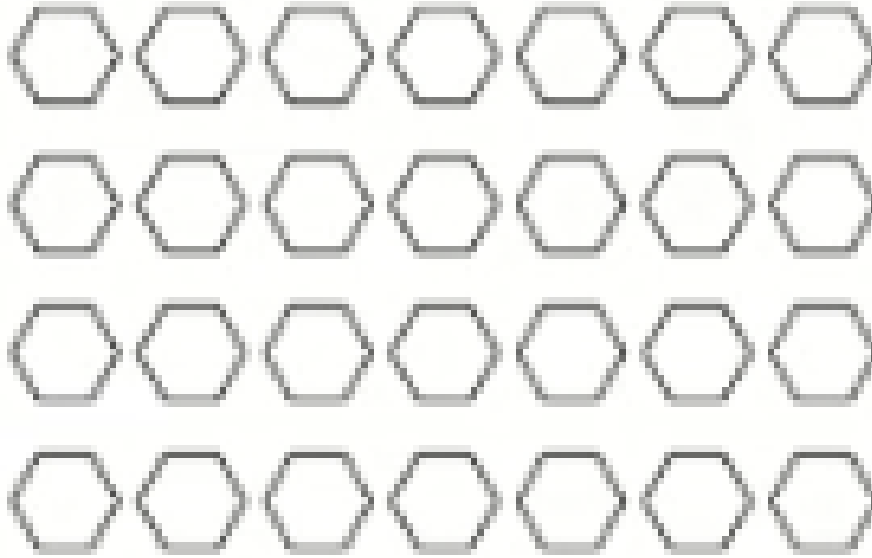



DIGI13 Mintafelismerés




Üres felületek háttereként gyakran alkalmazunk ismétlődő mintákat, azaz olyan alakzatokat, amelyek vízszintesen és függőlegesen is tükrözhetők.



a



b



c



d

Melyik felel meg a fenti ábrák közül az önismétlő minta meghatározásának?

A a

B b

C c

D d

A helyes válaszok betűjele: