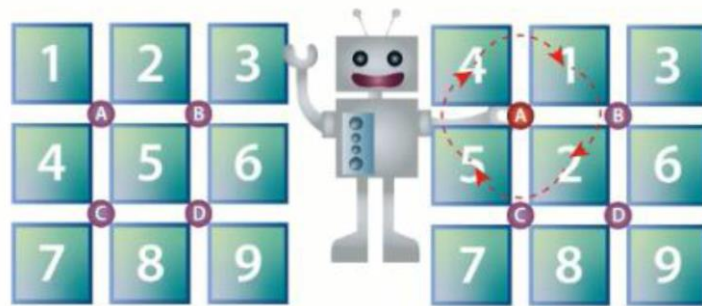


## DIGI130 Forgató 1.

Robi egy ultramodern robot, aminek kedvenc játéka a képen látható. A játék lényege, hogy az A, B, C vagy D gombok valamelyikének lenyomásával a gomb körüli számok az óramutató járásával megegyező irányban fordulnak el egy négyzet egységnyit.

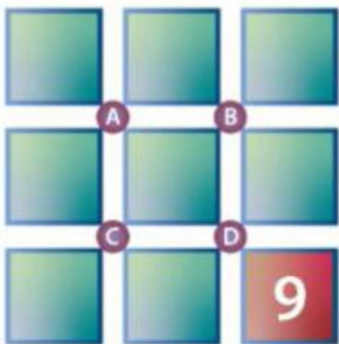
Az alábbi képen egy példa látható, hogy mi történik akkor, ha Robi megnyomja az A jelű gombot, majd a körülötte levő négy számjegy egy egységnyit elfordul:

Kiindulási állapot

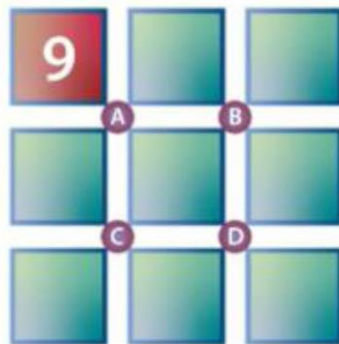


Robi a **kiindulási állapotban** a következő sorrendben nyomta meg a játék gombjait **D, A, B, C**.

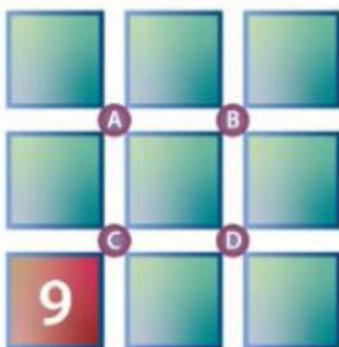
Melyik pozícióban jelenik meg a 9-es szám a négy gomb lenyomása után?



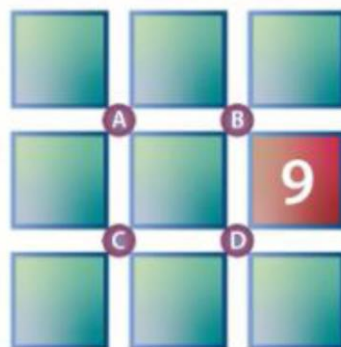
**F**



**G**



**K**



**H**

A helyes ábra betűjele: .....