





## DIGI170 Okos locsolás 2.

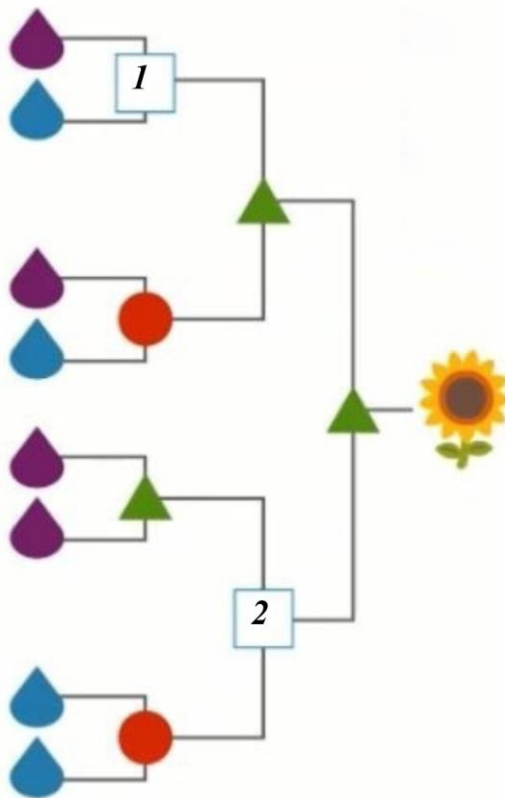
Egy mezőgazdasági terület programozható locsolórendszerrel rendelkezik. A rendszer négy kútból és négy szivattyúból épül fel. Elegendő egy kút működése ahhoz, hogy a szivattyút be lehessen kapcsolni és vizet tudjon szivattyúzni.

A locsolórendszer jelmagyarázata a következő:

- A  Működő kút
- B  Nem működő kút
- C  Elegendő egy kút működése, hogy a szivattyú bekapcsoljon.
- D  Nem működő szivattyú

A locsolórendszert további négy kúttal és szivattyúval bővítették ki.

Mikor enged a locsolórendszer vizet?



Melyik szivattyújelnek felelnek meg a számok?

1 (számhoz tartozó betűjel): .....

2 (számhoz tartozó betűjel): .....