
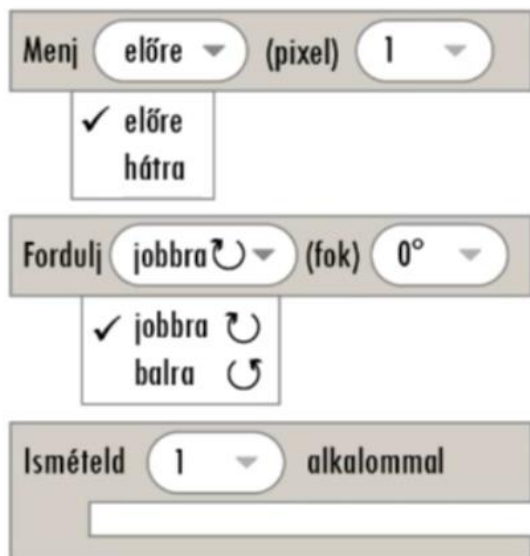


## DIGI87 Geometriai gyakorlás applikációval 2.

A ZEDSOFT nevű grafikai szoftverfejlesztő cég geometriai feladatokat gyakorolható applikációt fejleszt.

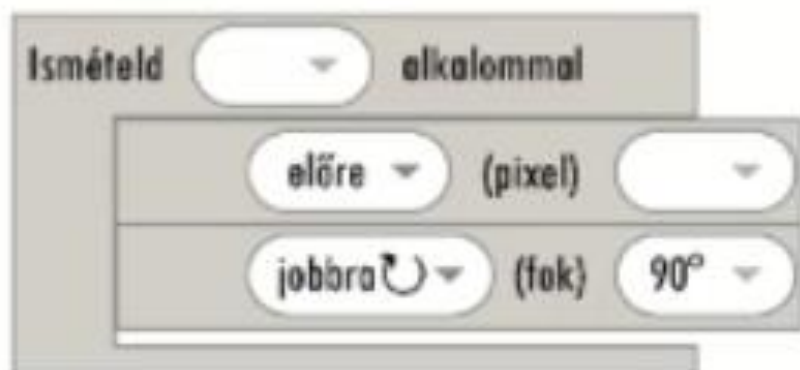
Az applikációban 3 blokk használható az alábbiak szerint.



A jobb felső ábrán 100 pixel oldalhosszúságú négyzetet megrajzoló blokkprogram látható, hiányzó részekkel.

Hogyan egészítenék ki a programot?

Figyelj arra, hogy nem mindegyik értéket és utasítást kell felhasználnod!



4	90	100
Fordulj	Hátra	Menj

*A helyes válaszok:*

Ismételd ..... alkalommal

előre (pixel) .....