


***DIGI52 Kertészet 2.***

A kinyílt virágok közül egy párat kitúrt a vakond. A színkódok alapján sikerült meghatározni, hogy milyen színű virágok hiányoznak és pótolták.



*Milyen színű virágok hiányoztak a kertből?*

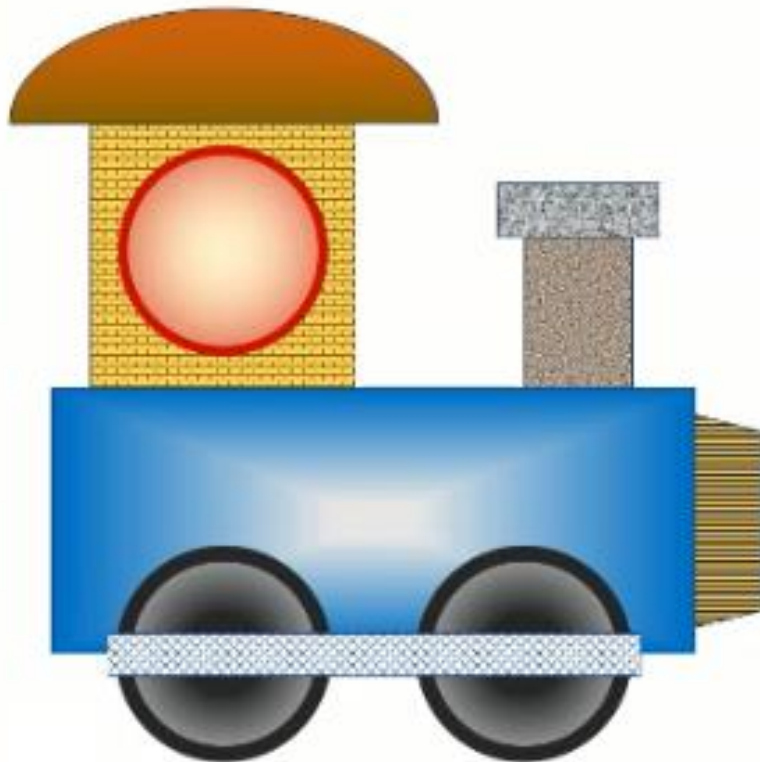
- A Egy piros virág.
- B 2 kék virág.
- C Egy sárga virág.
- D 3 rózsaszín virág.

*A helyes válaszok betűjele: .....*

## *DIGI57 Művészi rajz*

Az iskolában rajzversenyt rendeztek, amelyen egy bemutató készítő program eszközeivel készített rajzokkal lehetett részt venni.

Milyen típusú kitöltést nem használtak fel az ábrán látható rajz elkészítésekor?



- A Színátmenetes kitöltés
- B Kitöltés mintázattal
- C Egyszínű kitöltés
- D Kitöltés anyagmintával

A helyes válasz betűjele: .....

## DIGI62 Kincskereső robot 2.

A KINCS 02 robot kincseket azonosít és gyűjt össze.

A robot előre, hátra, jobbra és balra tud egy egységet lépni.

Átlósan nem tud haladni.

A célhoz vezető legrövidebb úton haladva kell begyűjtenie a kincseket a gyémántokkal megjelölt helyekről.



A robot korábbi változata (Kincs 01) egy lépésben csak jobbra vagy lefelé tudott haladni egy egységet. Így előfordult, hogy több robot indítására is szükség volt az összes kincs összegyűjtéséhez.

Legkevesebb hány KINCS 01 robot szükséges az összes kincs összegyűjtéséhez és célba juttatásához?

- A 1 robot
- B 2 robot
- C 3 robot
- D 4 robot

A helyes válasz betűjele: .....

### ***DIGI67 Karakterformázás 3.***

A karakterformázás befolyásolhatja a szövegek értelmezését.

Melyik talpas, illetve melyik talp nélküli az alábbi betűtípusok közül?

- A Rockwell
- B Tahoma
- C Comic Sans
- D Monotype Corsiva

A talpas betűtípusok betűjelei: .....

A nem talpas betűtípusok betűjelei: .....

### ***DIGI68 Elektronikus tudástár 2.***

Julcsinak az egyik házi feladatát csoportmunkában, három osztálytársával közösen kell megoldania. A személyes találkozó helyett inkább online dolgoznának együtt, ezért digitális tantermet szeretnének létrehozni, ahol ez megvalósítható.

Az alábbiak közül mely területeken hozhatók létre digitális tantermek?

- A Edmodo
- B Wikipédia
- C Microsoft Teams
- D Google Classroom
- E Okosdoboz

A helyes válaszok betűjelei: .....

### ***DIGI77 Felhőtárhely***

Dani a szabadidejét gyakran tölti fényképezéssel. Az elkészült fotóiról szeretne biztonsági másolatot készíten, valamint barátaival is megosztaná a közös túrán készült képeket, ezért egy felhőtárhelyre regisztrál.

Dani számára a sok fénykép miatt a fő szempont a megfelelő felhőszolgáltatás kiválasztásánál a biztosított tárhelyméret, ezért több weboldalon is utánanéző a kínált szolgáltatásnak.

*Melyik tárhely a legnagyobb az alábbiak közül?*

- A 100GB
- B 500 MB
- C 1TB
- D 50 GB

A helyes válasz betűjele: .....

### ***DIGI78 Családi fotóalbum***

Klári szeretné megszerezni, és biztonságosan tárolni az összegyűlt családi képeit.

*Melyik megoldás jelenti a legbiztonságosabb módot Klári számára a képek mentésére?*


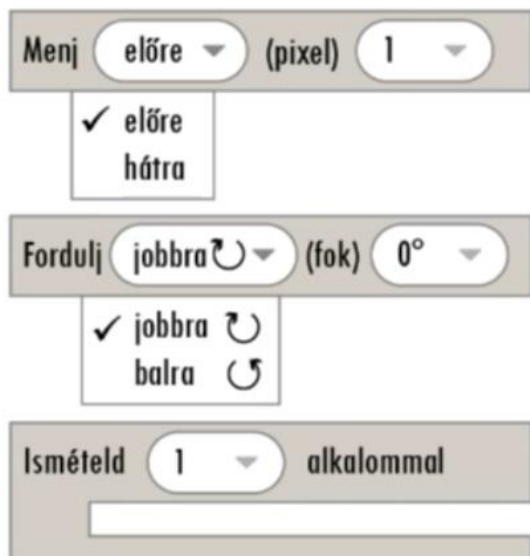
- A A mobiltelefonja memóriakártyájára mentés.
- B Azonnali mentés a felhőalapú tárhelyére.
- C Mentés a számítógépén és külső merevlemezén egyaránt.
- D Mentés a memóriakártyáján, számítógépén és felhőalapú tárhelyén egyaránt.
- E Mentés a memóriakártyáján és külső adathordozón.

A helyes válasz betűjele: .....

## DIGI87 Geometriai gyakorlás applikációval 2.

A ZEDSOFT nevű grafikai szoftverfejlesztő cég geometriai feladatokat gyakorolható applikációt fejleszt.

Az applikációban 3 blokk használható az alábbiak szerint.



A jobb felső ábrán 100 pixel oldalhosszúságú négyzetet megrajzoló blokkprogram látható, hiányzó részekkel.

Hogyan egészítenék ki a programot?

Figyelj arra, hogy nem mindegyik értéket és utasítást kell felhasználnod!



4	90	100
Fordulj	Hátra	Menj

*A helyes válaszok:*

Ismételd ..... alkalommal

előre (pixel) .....

### **DIGI97 E-mail 2.**

A kereskedő iskola tábort szervez a felső tagozatra járó diákok részére. A programot szervező tanárnő szeretné elküldeni az osztályfőnököknek és a szülőknek a program tájékoztató anyagait. Email írása közben több elemre is figyelni kell.

Melyik igaz, illetve melyik hamis az alábbi állítások közül?

- A A „Tárgy” mező kitöltése kötelező.
- B A „Titkos másolat” címzettjét nem fogja látni a többi címzett.
- C Csak a címlistában szereplő címzetteknek küldhető email.
- D Csatolmány mérete bármekkora lehet.

A helyes válasz betűjele: .....

### **DIGI98 E-mail 3.**

A kereskedő iskola tábort szervez a felső tagozatra járó diákok részére. A programot szervező tanárnő szeretné elküldeni az osztályfőnököknek és a szülőknek a program tájékoztató anyagait. Az e-mail küldésekor a tanárnő a következő hibaüzenetet kapta.



Miért volt sikertelen az email elküldése?

- A Túl nagy a csatolmány mérete.
- B Helytelen a megadott email cím.
- C Nincs megoldva az email tárgya.
- D Több címzettet kellett volna megadni.

A helyes válasz betűjele: .....