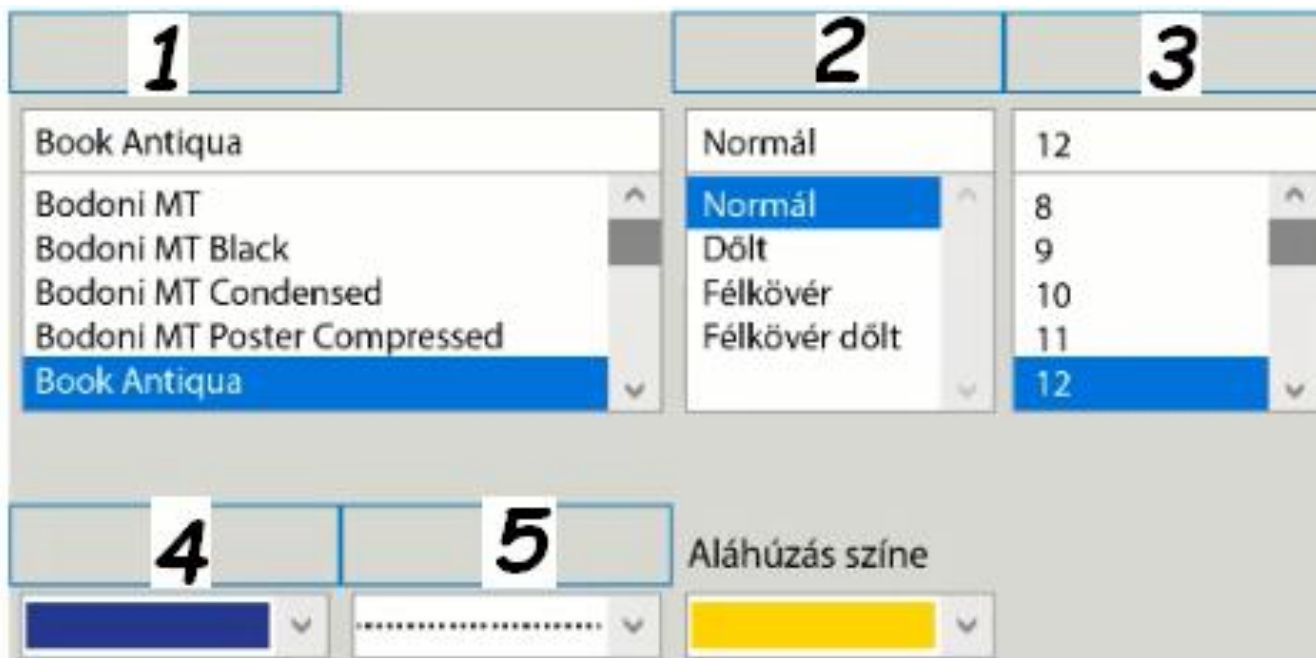


DIGI55 Karakterformázás 2.

A karakterformázás befolyásolhatja a szövegek értelmezését.

Hol helyezkednek el a párbeszédpanelen az egyes karakterformázási funkciók?



- A Aláhúzás típusa
- B Betűtípus
- C Betűméret
- D Betűszín
- E Betűstílus

Írd a számok után megfelelő betűjeleket!

- 1
- 2
- 3
- 4
- 5

DIGI60 Targoncás rakodás

Egy barkács és kertészeti áruház raktárában robot targoncával végzik az árurakodást. A targoncák árucikkeket szednek össze. A robot targonca a következő utasításokat követi:


E - előre lép egyet

B - balra 90 fokban elfordul

J - jobbra 90 fokban elfordul

A betűjelek mellett megadott számok az előrehaladás lépéseinek számát jelölik például E2 = előre lép 2 mezőt. A rakodó járművek csak az üres mezőkön mozoghatnak, a kijelölt árucikket azonban akkor vehetik fel, ha rajta áll az adott áru jelölő mezőn.

Indulás a PIROS targoncától! A targonca az emelő karjának irányában néz előre.



E J E2 J E

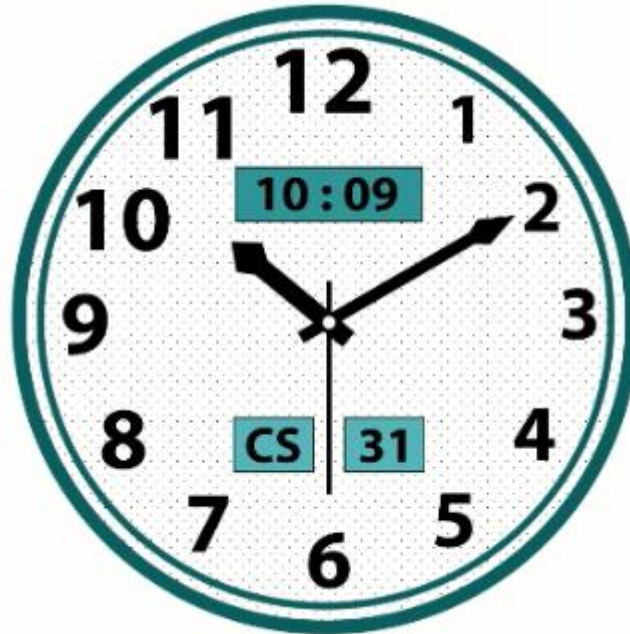
Melyik termék hiányzik a szállítmányból?

- A Doboz
- B Lapát vödörrel
- C Virág
- D Rovarirtós doboz

A helyes válasz betűjele:

DIGI65 Számlap

A tanulók órai feladata az volt, hogy tervezzenek óraszámplot egy prezentációkészítő alkalmazás alakzatainak felhasználásával. Dénes az itt látható tervet készítette.



Milyen tervezési szempontoknak felel meg az elkészült óraszámplot?

- A Az órának legyen analóg és digitális kijelzője is.
- B A nagy és kis mutató csúcsai egyforma alakúak és méretűek legyenek.
- C Az óra jelölje a napokat.
- D A digitális kijelző ne legyen sose eltakarva a mutatókkal.
- E A másodpercmutató színe térjen el a másik 2-től.
- F A számok nem egyformák legyenek, valamilyen szabályosság szerint változzanak.
- G A számlap mintázattal legyen kitöltve.

A helyes válaszok betűjelei:

DIGI71 Repülő futár 2.

A Repülő Futár KFT futár cég pilóta nélküli légi járművek használatával kézbesíti a csomagokat.

A drón a következő utasításokkal irányítható:

E: előre repül egy egységet,

H: hátra repül egy egységet,

J: jobbra fordul 90 fokot,

B: balra fordul 90 fokot.

A betűjelek mellett megadott számok a lépések ismétlésének számát jelölik, például

E2: előre repül 2 egységet.

A futárcég kapott 4 megrendelést, melyek címeit a képen látható sorszámok jelölik.



Melyik utasítás sorral lehet a drónt a kezdő időpontjáról az 1-2-3-4 útvonalon reptetni?

A J E B E J E2 B E E J E

B J E J E J E2 B E E J E

C E2 B E J E2 B E E J E

D J E B E J E2 J E2 J E

A helyes válasz betűjele:


DIGI75 Prezentáció felépítése

Peti előadást szeretne tartani a következő digitális kultúra órán.


Hogyan épül fel egy prezentáció?




A



B



C



D

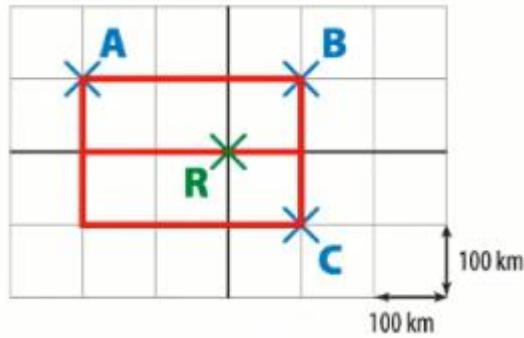


E

Mi a helyes sorrend?

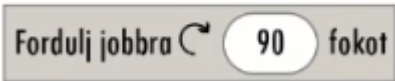
1. (betűjele:)
2. (betűjele)
3. (betűjele:)
4. (betűjele:)
5. (betűjele:)

DIGI81 Déli-sark 2.




A teherautó programozására kizárólag 3 blokk használható beszélő ezek a következők:


Jobbra fordul 90°-kal (a szög nem módosítható):



Balra fordul 90°-kal (a szög nem módosítható):



Előremegy 100 kilométert (a mértékegységhez rendelt érték nem módosítható):



Melyik program segítségével jut a teherautó az A jelű kutató állomáshoz a B jelű érintésével?



A program



B program



C program



D program

A helyes program betűjele:

DIGI85 Virágról virágra

Utasítások:


J - fordulj jobbra

B - fordulj balra

E - lépj előre

H - lépj hátra

A betűjelek melletti számok a lépések mennyiségét jelölik.



Melyik kód sorral nem lehet kiolvasni a méz szót, ha az M betűről indul a méhecske, és észak felé néz?

- A E2 - J - E3
- B B - H2 - J - H1
- C J.- J - H2 - B - E3
- D J - E3 - B - E2

A helyes válasz betűjele:

DIGI91 Közösségi oldalak 1.

Péter szeretné, hogy ismerősei könnyen fel tudják veled venni a kapcsolatot az interneten, továbbá különböző tartalmakat szeretnének megosztani egymással. Erre a célra egy közösségi oldalt fognak használni.

A legnagyobb közösségi oldalakon hány évesnek kell lenniünk ahhoz, hogy jogosultak legyünk a teljes jogú fiók létrehozására?

- A Bárki jogosult, nincsen korhatár.
- B Legalább 12 évesnek kell lenni.
- C Legalább 13 évesnek kell lenni.
- D Legalább 14 évesnek kell lenni.

A helyes válasz betűjele:

DIGI92 Közösségi oldalak 2.

Péter szeretné, hogy ismerősei könnyen fel tudják veled venni a kapcsolatot az interneten, továbbá különböző tartalmakat szeretnének megosztani egymással. Erre a célra egy közösségi oldalt fognak használni.

Melyek a legbiztonságosabb jelszavak az alábbiak közül?

- A evike
- B pajtikutya
- C EvaR_2010_a
- D EVI0822
- E AVpka0120_k

A helyes válaszok betűjelei:

DIGI100 Elektronikus tudástár

Julcsi tanulás közben szeretné segítségül hívni az internetet, és kihasználni az online elérhető dokumentumok, tananyagok és egyéb platformok által kínált lehetőségeket.

Julcsi megkereste a kötelező olvasmányt egy online könyvtárban.

The screenshot shows the Mekk.hu website interface for the book 'János vitéz' by Sándor Petőfi. The page is organized into several sections:

- Header:** Displays the author's name 'Petőfi Sándor' and the title 'János vitéz'. Below this, it categorizes the book as 'Szépirodalom, népköltészet/Klasszikus magyar irodalom (magyar irodalom)'. A quote from the poem is visible: "Tízeken túl le a nyári nap sugarán / Az ég tetejéről a felhőkből / Földet érve dolos ruháca oly nagyon, / A felhőzök egyir nagy melege vagyon."
- Navigation:** Includes a search bar, a 'hátra' (back) button, and an 'előre' (forward) button.
- Metadata:** Shows the publication date '2003-08-06' and the source 'FORRÁS'. The page number is 'SZÁMLÁLÓ: 18297'.
- Formats:** Two sections offer downloadable versions. The first, 'MEGTEKINTHETŐ VERZIÓK', includes HTML (69 kb), Word (7 kb), RTF (9 kb), PDF (130 kb), LIT (42 kb), and JPEG. The second, 'ZIP-PEL, CSOMAGOLT VERZIÓK', includes HTML (33 kb), Word (3 kb), RTF (3 kb), PDF (116 kb), XML, and Egyéb.
- Additional Features:** Buttons for 'Adomány', 'Megosztás', 'Küldés', and 'Mobil QR-kód' are located at the bottom.

Melyik igaz, illetve melyik hamis az alábbi állítások közül a fenti képen látható és az online könyvtárban elérhető művel kapcsolatban?

- A A mű csak egy formátumban tekinthető meg.
- B Elolvashatjuk online, és le is tudjuk tölteni az eszközökre.
- C Lehetőségünk van felolvasva és meghallgatni a keresett kötelező olvasmányt.
- D QR-kód segítségével telefonunkon is el tudjuk olvasni.

A helyes válaszok betűjelei: