

## DIGI102 Erdei drón 1.

Egy erdészeti tervezési feladatban, hogy egy légi felvételek és videók készítésére is alkalmas veszély programozható drón segítségével vadvilág felmérést végez a régiójában. A drón lehetővé teszi számukra, hogy madártávlatból megfigyeljék a területükön élő állatok élőhelyeit, a vándorlási szokásaikat és az állatok viselkedését befolyásoló egyéb kulcsfontosságú tényezőket.



Az alábbi program segítségével szeretnék eljuttatni a drónt térképen látható bagoly.



Hány fokkal kell 1. lépésben elfordítani a drónt?

- A 0
- B 90
- C 180
- D 270

A helyes válasz betűjele: .....

## ***DIGI107 Tabló 1.***

A Tudás Kincs Gimnázium végzős tanulói a ballagási tablójukat saját maguk készítenék el.

A fotóik feljavításához egy sokfunkciós képszerkesztőt, a fotók, a nevek és az idézetek tablóra helyezéséhez pedig egy szövegszerkesztő programot használtak.



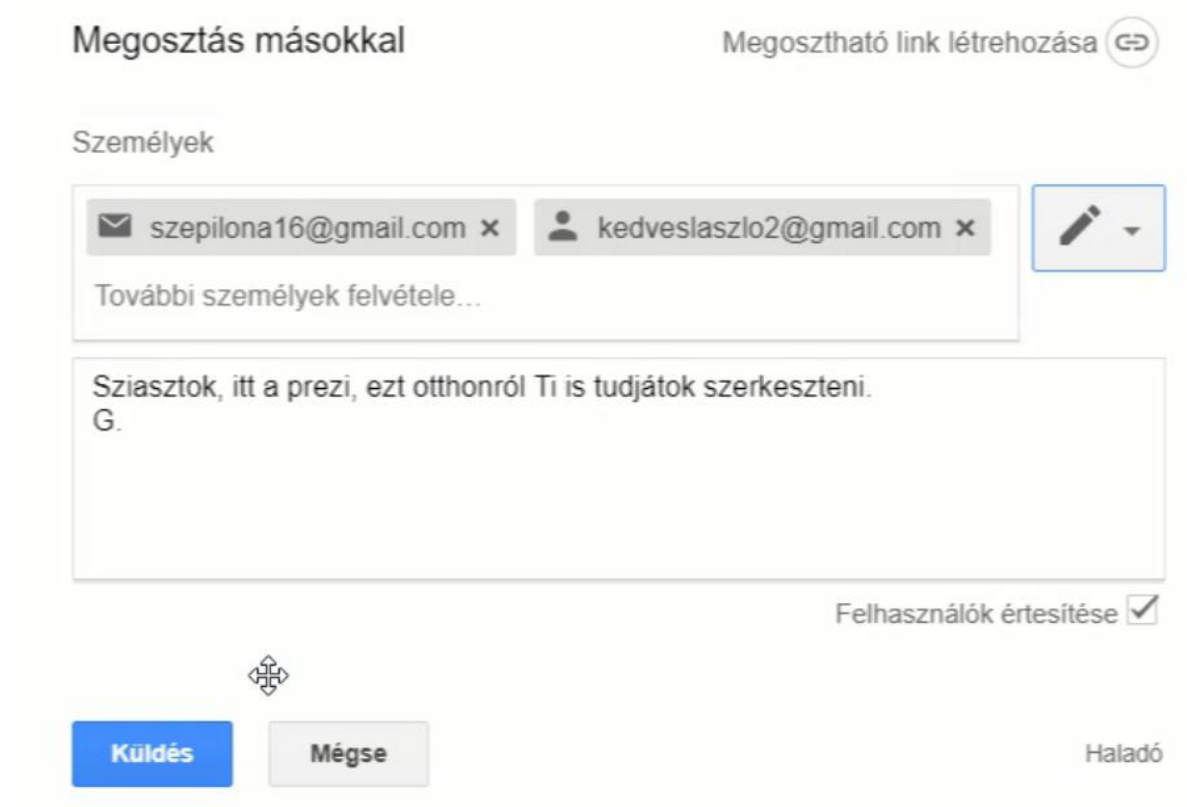
*Milyen képkorrekciós művelettel állították elő a bal oldali képből a jobb oldalt?*

- A A fényerő csökkentésével
- B A telítettség növelésével
- C A fényerő növelésével
- D A kontraszt növelésével.

A helyes válasz betűjele: .....

## DIGI112 Csoportmunka

Gréti osztálytársaival, Ilonával és Lászlóval csoportmunkában készíti a történelemórára vállalt prezentációt. Ennek első verzióját feltette a felhőtárhelyére (Google drive), és szeretné azt osztálytársaival megosztani, hogy könnyebben tudjanak együtt dolgozni.



Megosztás másokkal Megosztható link létrehozása

Személyek

szepilona16@gmail.com x kedveslaszlo2@gmail.com x

További személyek felvétele...

Sziaztok, itt a prezi, ezt otthonról Ti is tudjátok szerkeszteni.  
G.

Felhasználók értesítése

Küldés Mégse Haladó

Melyik IGAZ, illetve melyik HAMIS az alábbi állítások közül?

- A A prezentációhoz megosztás után Ilona és Laci tud megjegyzéseket és javaslatokat írni.
- B A prezentációt a megosztás után egyikük sem tudja már szerkeszteni.
- C A prezentációt a megosztás után Ilona és Laci megnézheti, de nem tudják átalakítani.
- D A prezentációt a megosztás után is csak Gréti tudja szerkeszteni.
- E A prezentációt a megosztás után mindhárman tudják szerkeszteni.

Az IGAZ állítások betűjelei: ..... A HAMIS állítások betűjelei: .....

## *DIGI117 Pillangók*

Misi nagyon szeret állatokat fotózni. Egy kirándulás alkalmával egy nagy réten rengeteg pillangót látott meg és képeket készített róluk.



Amikor Misi megnézte az elkészült képeket, megszámolta, hogy az első képen 64 pillangó volt, és minden kép készítésekor elrepült a pillangók fele.

*Hány képet készített Misi, ha az utolsó fotón már csak egy pillangó látható?*

- A 5
- B 7
- C 6
- D 3

A helyes válasz betűjele: .....

## *DIGI122 Kommunikációs felületek*

Olivér nyert egy ösztöndíjat, így egy félévet külföldön tanulhat. Szeretné azonban tartani a magyarországi osztálytársaival a kapcsolatot, ezért elgondolkodott, hogy melyik kommunikációs formát válassza az időeltolódás miatt.

ONLINE = valós idejű kommunikáció.

OFFLINE = nem kell, hogy a felek egyszerre legyenek jelen.



Segíts neki csoportosítani ezeket a szolgáltatásokat!

- A elektronikus levelezés
- B hírlevelek
- C telefonálás
- D videóhívás, hanghívás
- E blogok, vlogok
- F fórumok
- G chat

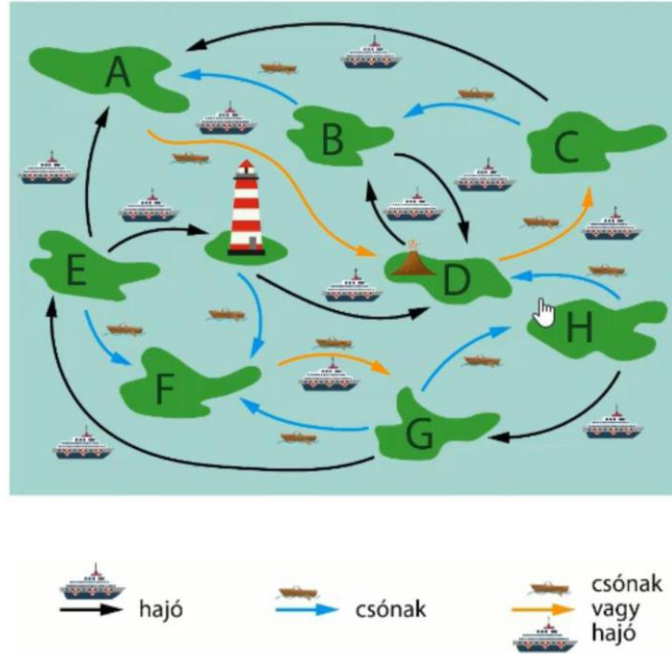
Csak a betűjeleket írd a megfelelő helyre!

ONLINE: .....

OFFLINE: .....

## DIGI128 Hajózás 2.

A Tour Edge utazási iroda egy csendes-óceáni szigetecsoport szigetei között szervez utakat kalandvágyó turisták számára. Vannak szigetek, amelyek között vagy csak hajóval vagy csak csónakkal lehet utazni, de vannak olyanok is, amelyek hajóval és csónakkal egyaránt megközelíthetők.



Egy fiatal házaspár a szigeteknél tölti a nászútját. Az utazási iroda az **E** jelzésű szigettől indulva négy különböző útvonalat ajánlott nekik. Az ifjú pár nem szeretne kétszer ugyanazon a szigeten átmenni, illetve a feleség mindenképpen szeretné megnézni a **C** szigeten lévő vulkánt.



Melyik jelzésű szigeten ér véget a házaspár nászútja, ha az utazásukkal kapcsolatos minden elképzelésük teljesült?

**A** jelzésű sziget

**B** jelzésű sziget

**F** jelzésű sziget

**H** jelzésű sziget

A helyes válasz betűjele: .....

## DIGI132 Futóverseny

Ildikó önkéntesként dolgozik egy futóversenyen, ahol azt a feladatot kapta, hogy készítsen egy dokumentumot a versenyzők eredményeiről.

Ildikó a kért dokumentumot szövegszerkesztővel készítette el az alábbiak szerint.

<b>Jótkonysági futóverseny eredményei</b>					
<i>(100-m)<sup>¶</sup></i>					
Helyezés	Versenyző	Egyesület	Idő <sup>¶</sup>		
1.	Kovács Jolán	Sprint SE	13,25 <sup>¶</sup>		
2.	Kiss János	Spuri FC	13,3 <sup>¶</sup>		
3.	Szentgáti Aladár	Szentágotai FC	13,32 <sup>¶</sup>		
4.	Szép Klára	Izom SE	13,4 <sup>¶</sup>		
5.	Olgyai Ibolya	Sprint SE	13,725 <sup>¶</sup>		
6.	Kármán Réka	UKC	14,1 <sup>¶</sup>		
7.	Szakály Zsuzsanna	Szép völgyesi SK	14,15 <sup>¶</sup>		
8.	Pék Irma	Spuri FC	14,872 <sup>¶</sup>		


Milyen igazítású tabulátort használt Ildikó az időeredmények esetén?

- A Balra.
- B Középre.
- C Jobbra.
- D Decimális.

A helyes válaszok betűjelei: .....

## *DIGI137 Szörfözés 1.*

Viola újságíró, aki otthonról dolgozik. Munkája során nagyon sokszor használ böngészőket.



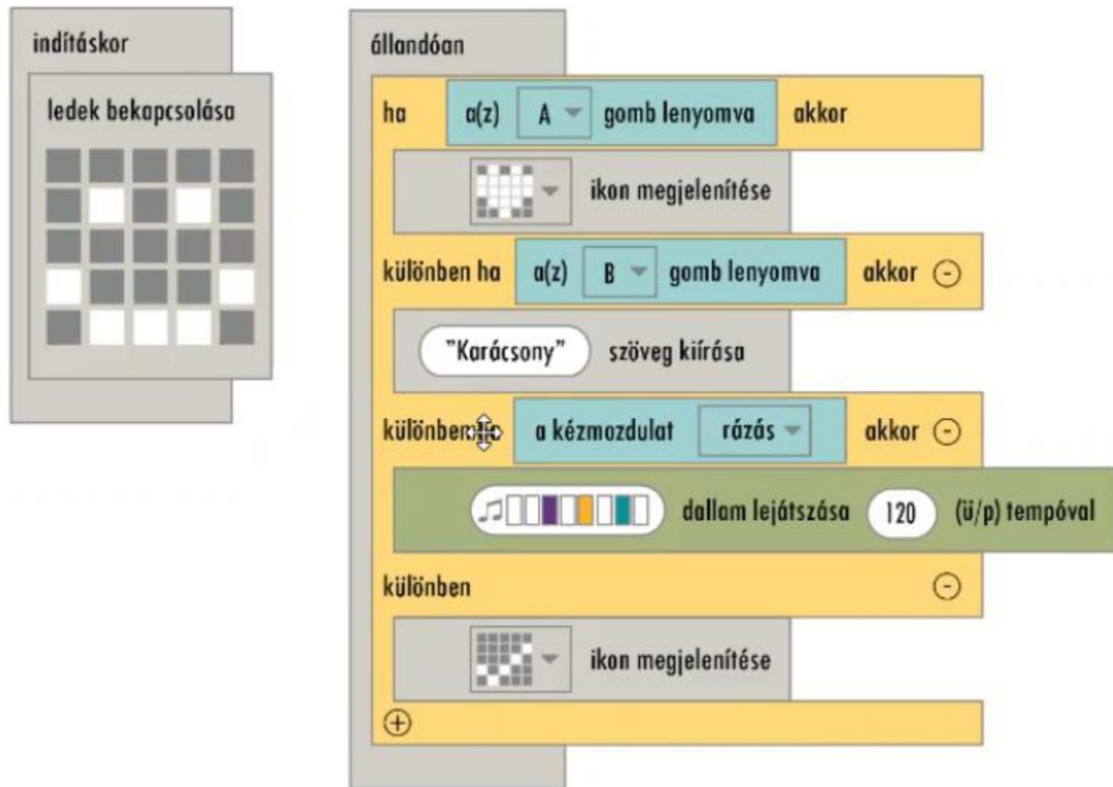
*Melyik böngészőprogram az alábbiak közül?*

- A Microsoft Office
- B Google Chrome
- C Safari
- D Google Maps
- E Microsoft Edge

A helyes válaszok betűjelei: .....

### DIGI142 Karácsony 3.

Aladár egy ledképeket kijelző, illetve zenét lejátszó programsort írt egy programozható, két nyomógombbal (A, B) és érzékelőkkel (szenzor) rendelkező panelre.



Ha bekapcsolás után nem ad más parancsot Aladár, mit jelez ki a programozható panel?

- A szívet
- B smiley-t
- C karácsony feliratot
- D pipát

A helyes válasz betűjele: .....

## *DIGI147 Kompromittáló kép*

Liza és Évi csúnyán összevesztek. Évi valahogyan szeretne borsot törni Liza orra alá, ezért azt tervezi, hogy egy kompromittáló tartalmat fog feltölteni róla az egyik közösségi oldalra.



Milyen következményekkel járhat, ha Évi feltölt Lizáról egy kompromittáló képet egy közösségi oldalra (pl. Facebook)? (A helyes válaszok száma három.)

- A Állandó ellenőrzés alá vonhatják a közösségimédia-felületeit.
- B A közösségi oldal törölheti a tartalmat.
- C A közösségi oldal törölheti a fiókját.
- D Jogi következményekkel is járhat.
- E Nem regisztrálhat többé semmilyen közösségimédia-felületre.

A helyes válaszok betűjelei: .....